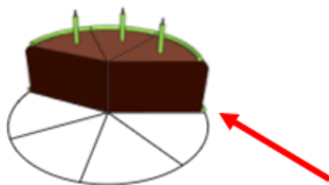



Max
1 



Од оваа лента бираш каква форма сакаш да делиш.



Дропката што си ја внел се прикажува како слика за подобро да ја разбереш.

$$\frac{3}{7}$$



На стрелките за нагоре и надолу ги менуваш броителот и именителот.

Во овој сад има делови од целото големи како 1 парче.

